

PHYSIQUE I

Aucune connaissance préalable sur le frottement solide n'est nécessaire ; la première partie du sujet donne les lois utiles et permet au candidat de les mettre en application sur un exemple simple.

Partie I - Glissement et frottement solide

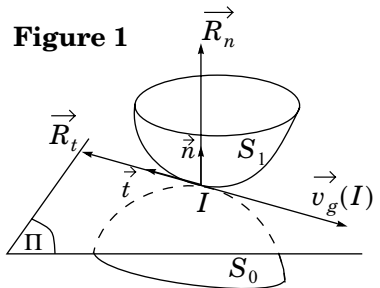
Soit un solide S_1 en contact au point I avec un solide S_0 ; la vitesse de glissement de S_1 par rapport à S_0 en I est définie par $\vec{v}_g(I) = \vec{v}(I \in S_1 / \mathcal{R}) - \vec{v}(I \in S_0 / \mathcal{R})$ où $\vec{v}(I \in S_i / \mathcal{R})$ désigne la vitesse du point I lié au solide S_i par rapport au référentiel \mathcal{R} .

On attribue à Charles-Augustin Coulomb (1736-1806) les lois phénoménologiques du frottement de glissement que l'on peut énoncer sous la forme simplifiée¹ suivante :

- On suppose que l'un au moins des deux solides possède un plan Π tangent en I ; la force \vec{R} exercée par S_0 sur S_1 peut s'exprimer sous la forme $\vec{R} = R_n \vec{n} + R_t \vec{t}$ où les vecteurs unitaires \vec{n} et \vec{t} sont respectivement normal et tangent à Π .
- En l'absence de glissement, c'est-à-dire si $\vec{v}_g(I) = \vec{0}$, les composantes normale et tangentielle de la force de contact sont telles que $|R_t| \leq f_s |R_n|$, où f_s est un coefficient positif appelé *coefficient de frottement de glissement statique*.
- En cas de glissement, les composantes normale et tangentielle de la force de contact sont telles que

$$R_t \vec{t} = -f_d |R_n| \frac{\vec{v}_g(I)}{\|\vec{v}_g(I)\|},$$

où f_d est un coefficient positif tel que $f_d < f_s$, appelé *coefficient de frottement de glissement dynamique*.



1. On ne tiendra pas compte de l'existence éventuelle d'un moment en I des efforts exercés par S_0 sur S_1 .

Filière TSI

I.A - Quelques considérations générales sur l'énoncé des lois de Coulomb

I.A.1) Quelle est la dimension physique des coefficients f_s ou f_d ?

I.A.2)

a) Rappeler, en précisant clairement les notations introduites, la loi de composition des vitesses lors du changement de référentiel de \mathcal{R} à \mathcal{R}' .

b) Dans la notation de la vitesse de glissement, pourquoi n'indique-t-on pas le référentiel \mathcal{R} ?

I.A.3)

a) Pourquoi la vitesse de glissement est-elle parallèle au plan Π ?

b) Si \vec{n} est orienté de S_0 vers S_1 , quel est le signe de la composante normale R_n ? Justifier.

I.B - Mouvements sur un plan incliné

S_0 est un plan incliné d'un angle α par rapport à l'horizontale, fixe dans le référentiel terrestre \mathcal{R} , considéré comme galiléen. On désigne par \vec{g} le champ de pesanteur.

I.B.1) S_1 est un pavé de masse m susceptible de glisser sur S_0 . On n'envisagera pas l'éventualité d'un basculement.

a) S_1 étant initialement immobile, déterminer la condition sur f_s pour qu'il se mette en mouvement.

b) Déterminer alors le mouvement ultérieur.

Partie II - Étude d'un fil sur un arbre cylindrique

II.A - Équilibre d'un fil sur un arbre cylindrique fixe

Un fil de masse négligeable, sans raideur, est enroulé d'un angle α sur un arbre cylindrique de rayon a . Le contact arbre-fil est caractérisé par un coefficient de frottement f valant \vec{f}_d s'il y a glissement ou f_s s'il n'y a pas glissement. On exerce une force \vec{F}_A de norme F_A sur l'extrémité A du fil, et on cherche la valeur minimale de la norme F_B de la force \vec{F}_B à appliquer sur l'autre extrémité B du fil pour qu'il soit en équilibre.

II.A.1) On repère un point courant M du tronçon de fil en contact avec l'arbre par l'angle $\theta \in [0, \alpha]$. $\vec{t}(\theta)$ désigne le vecteur unitaire tangent au fil dans le sens des θ croissants ; $\vec{n}(\theta)$ désigne le vecteur unitaire normal au fil orienté de l'arbre vers l'extérieur. Exprimer le vecteur $\vec{t}(\theta + d\theta)$ sur la base $(\vec{t}(\theta), \vec{n}(\theta))$, en se limitant au premier ordre de $d\theta$.

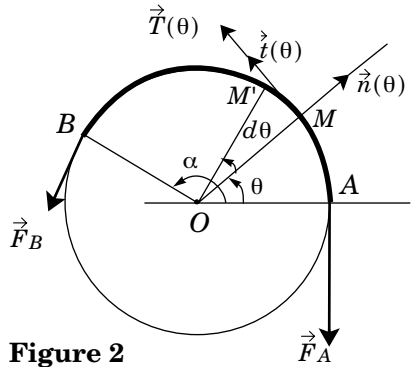


Figure 2

II.A.2) On modélise les efforts qu'exerce le tronçon de fil $[\theta, \alpha]$ sur le tronçon de fil $[0, \theta]$ par une force $\vec{T}(\theta) = T(\theta) \vec{t}(\theta)$, appelée tension du fil en M . On raisonne sur un tronçon de fil MM' compris entre θ et $\theta + d\theta$. Ce tronçon est soumis aux forces exercées par les tronçons AM et $M'B$, ainsi qu'à la force de contact $d\vec{R}$ que lui exerce l'arbre. Écrire une condition nécessaire d'équilibre de MM' reliant $\vec{T}(\theta)$, $\vec{T}(\theta + d\theta)$ et $d\vec{R}$.

II.A.3) Pour $d\theta$ suffisamment petit, on peut utiliser le modèle du contact ponctuel entre deux solides tel qu'il est donné par les lois de Coulomb et écrire $d\vec{R} = dR_t \vec{t}(\theta) + dR_n \vec{n}(\theta)$ où dR_t est la composante tangentielle (force de frottement de glissement) et dR_n est la composante normale de la force exercée par l'arbre sur MM' . En exprimant également $\vec{T}(\theta)$ et $\vec{T}(\theta + d\theta)$ sur la base $(\vec{t}(\theta), \vec{n}(\theta))$ établir deux équations scalaires reliant $T(\theta)$, $dT(\theta)$, dR_t et dR_n .

II.A.4) À la limite du glissement, on a une relation de la forme $dR_t = (\pm) f_s dR_n$. Dans la situation envisagée, quels sont les signes de dR_t et de dR_n ? En déduire le signe correct dans la relation précédente.

II.A.5) En déduire que la tension $T(\theta)$ est régie par l'équation différentielle

$$\frac{dT(\theta)}{d\theta} + f_s T(\theta) = 0.$$

II.A.6) Intégrer cette équation différentielle et en déduire la relation entre F_A , F_B , f_s et α .

II.A.7) Application numérique : Pour une corde sur un arbre métallique, on a $f_s = 0,6$.

- Calculer F_B/F_A pour $\alpha = \pi$.
- Un matelot peut exercer confortablement une force de 100 N ; peut-il choisir α lui permettant de résister à une force de 10^4 N exercée par le bateau sur le premier brin de la corde ?
- Dans la disposition précédente, quelle force devrait-il exercer pour tenter de faire glisser la corde afin de tirer le bateau vers lui ?

II.B - Équilibre d'un fil sur un arbre cylindrique en rotation

Le fil est placé sur un arbre cylindrique comme dans la situation précédente (représentée sur la figure 2), mais l'arbre est cette fois en rotation, dans le référentiel \mathcal{R} , à la vitesse angulaire $\Omega = \Omega \vec{u}$ où \vec{u} est un vecteur unitaire normal au plan de figure. La base $\vec{n}, \vec{t}, \vec{u}$ est orthonormée directe, ce qui définit le sens de \vec{u} .

II.B.1) Lorsque le fil est immobile dans \mathcal{R} sur cet arbre en rotation, indiquer le sens de la vitesse de glissement du fil par rapport à l'arbre :

- si $\Omega > 0$;
- si $\Omega < 0$.

II.B.2) Que devient, pour $\Omega > 0$, l'équation différentielle régissant la tension $T(\theta)$?

II.B.3) *Application numérique* : pour une corde sur un arbre métallique, on a $f_d = 0,5$.

- Calculer F_B/F_A pour $\alpha = \pi$
- Pour quelle valeur minimale α_0 de α un matelot exerçant une force de 100 N peut-il résister à une force de 10^4 N exercée par le bateau sur le premier brin de la corde ?
- Pour $\alpha = \alpha_0$, quelle force devrait-il exercer pour que la corde se déplace dans le sens de \vec{t} ?
- Conclure.

Partie III - Moteur électrique à courant continu

III.A - Modélisation d'un moteur à courant continu

Le modèle électrique du moteur est une association en série d'un résistor de résistance R et d'une source idéale de tension de force électromotrice $e = -\Phi\Omega$, où Φ est une constante positive, et Ω la vitesse angulaire du rotor (élément tournant du moteur). Lorsqu'il est parcouru par un courant électrique d'intensité i , le rotor se met en mouvement sous

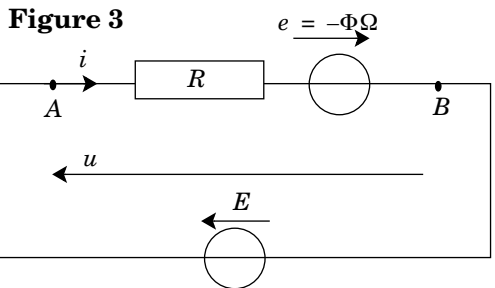


Figure 3

l'effet d'efforts d'origine électromagnétique de moment $\mathcal{M} = \Phi i$. Ce rotor est soumis à des frottements dont le moment peut être modélisé par une loi de la forme $\mathcal{M}' = -\varepsilon M_0 - \gamma \Omega$, où γ et M_0 sont des constantes positives, et ε représente le signe de la vitesse angulaire Ω lorsque celle-ci est non nulle. Lorsque la

vitesse angulaire Ω est nulle, ε est indéfini et compris entre -1 et $+1$. Le moment d'inertie du rotor est noté J .

III.A.1)

- a) Justifier par une étude dimensionnelle la cohérence des expressions du moment \mathcal{M} et de la force électromotrice e .
- b) Justifier par une étude énergétique la présence du signe $-$ dans l'expression de la force électromotrice.

III.A.2)

- a) Le moteur étant initialement au repos, il est alimenté à l'instant $t = 0$ par une source idéale de tension de force électromotrice E constante. Déterminer la condition sur E pour que le moteur se mette en rotation avec une vitesse angulaire positive.
- b) Cette condition étant satisfaite, déterminer l'évolution au cours du temps de la vitesse angulaire de rotation du moteur à vide.
- c) Exprimer la puissance fournie par la source de tension en régime établi. Sous quelles formes cette puissance est-elle convertie ?

III.B - Principe physique d'un moteur à courant continu

Le rotor du moteur est constitué de N spires rectangulaires (de côtés $2a$ et b) tournant autour d'un axe Δ coïncidant avec l'axe Oz , passant par leur centre O et parallèle aux côtés CD et $C'D'$. Il est plongé dans un champ magnétique \vec{B} . Le champ \vec{B} est négligeable sur les brins DD' , AC et $A'C'$. Sur les brins CD et $C'D'$, il est radial et de norme B pratiquement constante.

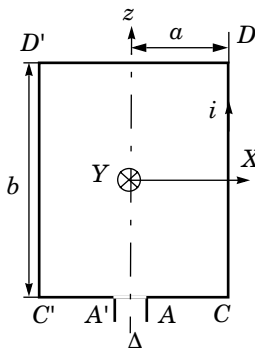


Figure 4 a
Vue de profil

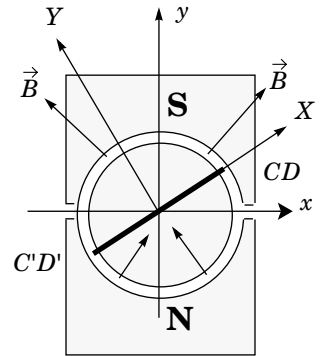


Figure 4 b
Vue de dessus

Dans le domaine caractérisé par $y < 0$, ce qui est le cas du brin $C'D'$ dans la position représentée sur la figure 4 b, \vec{B} est radial entrant, tandis qu'il est radial sortant dans le domaine caractérisé par $y > 0$, ce qui est le cas du brin CD dans la position représentée sur la figure 4 b. Un point M courant du brin CD sera repéré par $\vec{OM} = a e_X + z e_z$ avec $z \in [-b/2, b/2]$. La forme des pièces polaires N et S de l'aimant et la présence d'un noyau de fer cylindrique d'axe Oz permet d'obtenir un champ magnétique \vec{B} pratiquement radial, au niveau des brins CD et $C'D'$.

III.B.1) On se limite pour l'instant au cas de la figure 4 b.

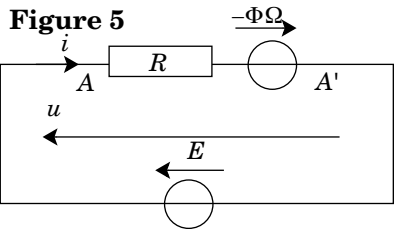
- a) Comparer les directions et les sens des champs \vec{B} en un point M du tronçon CD et en un point M' du tronçon $C'D'$.
- b) Comparer les forces de Laplace \vec{F}_{CD} et $\vec{F}_{C'D'}$ s'exerçant sur ces deux tronçons.
- c) Montrer que le moment \mathcal{M}_1 par rapport à l'axe Δ des forces de Laplace s'exerçant sur la spire peut se mettre sous la forme $\mathcal{M}_1 = i\Phi_1$; exprimer Φ_1 ; montrer que Φ_1 a les dimensions d'un flux magnétique.

III.B.2)

- a) L'expression de Φ_1 dépend-elle de la position de la spire ? Que se passe-t-il si le brin CD passe dans le domaine $y < 0$?
- b) Quelle serait la valeur moyenne de \mathcal{M}_1 sur un tour si l'intensité i , comptée positivement dans le sens CD , était constante ?
- c) En fait, un commutateur permet d'avoir toujours une intensité de même signe dans le brin qui évolue dans la zone $y > 0$. Quel est l'intérêt de cette commutation ?
- d) Dans la suite, on admettra que le moment des efforts de Laplace (qu'on désignera par le terme de couple moteur dans la suite), s'exerçant sur le rotor dans son ensemble peut s'écrire $\mathcal{M} = \Phi i$, avec $\Phi = N\Phi_1$, quelle que soit la position du rotor. Justifier ce résultat et indiquer l'approximation qui doit être effectuée.

III.B.3)

- a) La spire tournant à la vitesse angulaire Ω autour de l'axe Δ , calculer la force électromotrice induite $e_{AA'}$ dans le cas représenté sur la figure.
- b) Mettre cette force électromotrice sous la forme $e_{AA'} = -\Phi_2\Omega$. Comparer Φ_1 et Φ_2 .



- c) Justifier le schéma électrique de la figure 5 proposé pour le moteur alimenté par une source idéale de tension de force électromotrice E

Partie IV - Frottement d'un fil sur un arbre entraîné par un moteur

IV.A - Mesure du couple d'un moteur à courant continu

Un moteur à courant continu est décrit par les paramètres Φ , R , γ et M_0 définis dans la partie précédente.

Pour mesurer son couple moteur, on utilise le dispositif représenté figure 6. Une roue de rayon a est entraînée par le rotor à la vitesse angulaire Ω constante. Un fil glisse sur cette poulie ; on détermine la tension des brins droit et gauche du fil par la mesure des allongements y_1 et y_2 des deux ressorts, dont l'extrémité inférieure est reliée à un bâti dont on peut faire varier la distance par rapport à l'axe de la roue. $a = 2 \text{ cm}$; $k_1 = 6,8 \text{ N} \cdot \text{m}^{-1}$; $k_2 = 4,5 \text{ N} \cdot \text{m}^{-1}$

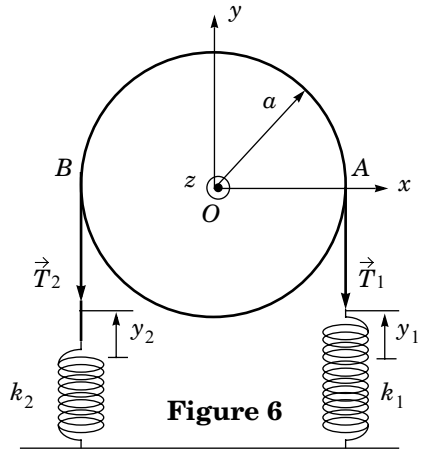


Figure 6

IV.A.1) Exprimer en fonction de y_1, y_2, a et des raideurs k_1 et k_2 des deux ressorts,

le moment \mathcal{M}'' par rapport à l'axe Oz

des efforts de frottement exercés par le fil sur la poulie. On obtient expérimentalement les résultats suivants :

n (tours/minute)	y_1 (mm)	y_2 (mm)	i (A)
1000	57	18	1,00
2000	55	17	1,00
3000	14	4	0,60
	33	10	0,80
	52	16	1,00
	70	22	1,20
	89	28	1,40
	107	34	1,60
	126	40	1,80
	144	45	2,00
4000	49	15	1,00
5000	46	14	1,00

IV.A.2) À partir des valeurs correspondant à une fréquence de rotation de 3000 tours/minute, déterminer la constante Φ .

IV.A.3) À partir des valeurs correspondant à une intensité de 1 A, déterminer la constante γ .

IV.A.4) À l'aide des résultats précédents, déterminer M_0 .

IV.A.5)

- a) À partir des valeurs correspondant à une fréquence de rotation de 1000 tours par minute, évaluer le coefficient de frottement dynamique f_d du fil sur la poulie.
- b) Retrouve-t-on le même coefficient de frottement pour une fréquence de rotation de 3000 tours par minute ? Conclure.

IV.B - Détermination d'un point de fonctionnement

La roue de rayon a est entraînée par le rotor à la vitesse angulaire Ω constante. Le fil glisse sur cette poulie ; on impose la tension du brin droit en y suspendant une masse m . Le brin gauche est relié à un bâti fixe. Le fil et la masse m sont immobiles dans \mathcal{R} .

IV.B.1) Exprimer en fonction de f_d , m , g et a le moment \mathcal{M}'' par rapport à l'axe Oz des efforts qu'exerce le fil sur la roue lorsque la vitesse angulaire Ω est positive.

IV.B.2)

a) Pour $m = 20 \text{ g}$, $a = 2 \text{ cm}$, $g = 9,81 \text{ m} \cdot \text{s}^{-2}$, les caractéristiques f_d , M_0 , Φ et γ étant celles qui ont été déterminées à la question précédente, déterminer la valeur numérique de \mathcal{M}'' lorsque l'intensité est ajustée à la valeur de $i = 0,8 \text{ A}$.

b) En déduire la vitesse angulaire de rotation du moteur en régime permanent dans ces conditions.

c) La tension aux bornes du moteur est alors $E = 5,0 \text{ V}$. Déterminer la résistance R du moteur.

d) Définir et calculer numériquement le rendement du moteur dans ces conditions.

IV.B.3) On laisse le fil et la masselotte m dans la même configuration. On inverse les bornes de la source de tension, ce qui donne $E = -5,0 \text{ V}$ en conservant les mêmes conventions algébriques. Quel est l'état du moteur (intensité et vitesse angulaire) en régime établi ?

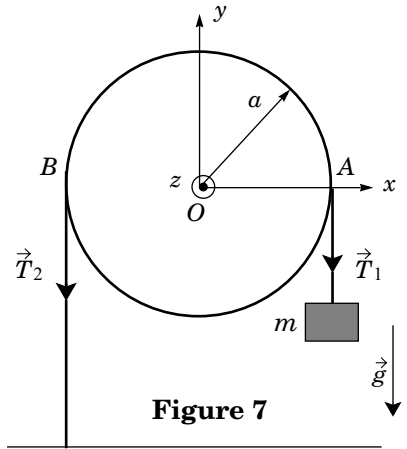


Figure 7

••• FIN •••